

CONCOURS D'ENTREE A L'EAMAU

SESSION DE MAI 2005

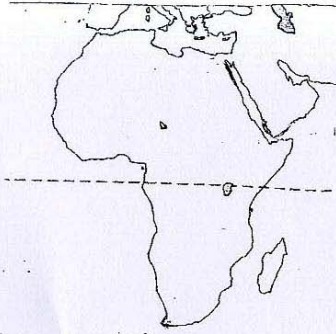
.....
FILIERE : ARCHITECTURE – URBANISME
.....

EPREUVE DE GEOGRAPHIE

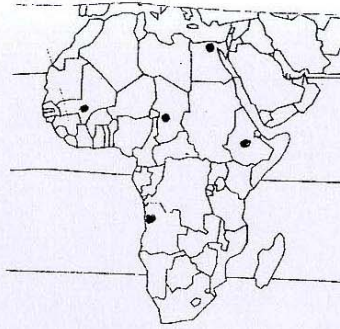
Durée : 1 heure

1. Sur le fond de carte d'Afrique n°1, placez les éléments hydrographiques suivants : le fleuve Congo, l'Orange, le fleuve Niger, le Nil. (2 points)
2. Sur le fond de carte d'Afrique n°2, quelques points de grandes villes sont marqués. Donnez le nom de ces villes et celui des pays correspondants. (5 points)
3. Complétez la rose des vents en plaçant au bon endroit les points cardinaux manquants pour mieux vous orienter. (3 points)
4. Sur le planisphère portant les noms des grandes villes (carte n°3), nommez les continents et les océans qui les entourent. (5 points)
5. Sur le planisphère (carte n°4), identifiez à l'aide de hachure ou d'une couleur deux pays lusophones* d'Afrique. (2 points)
Donnez le nom officiel, la capitale et la population totale de chacun de ces deux pays. (3 points)
* Pays lusophone : pays de langue portugaise.

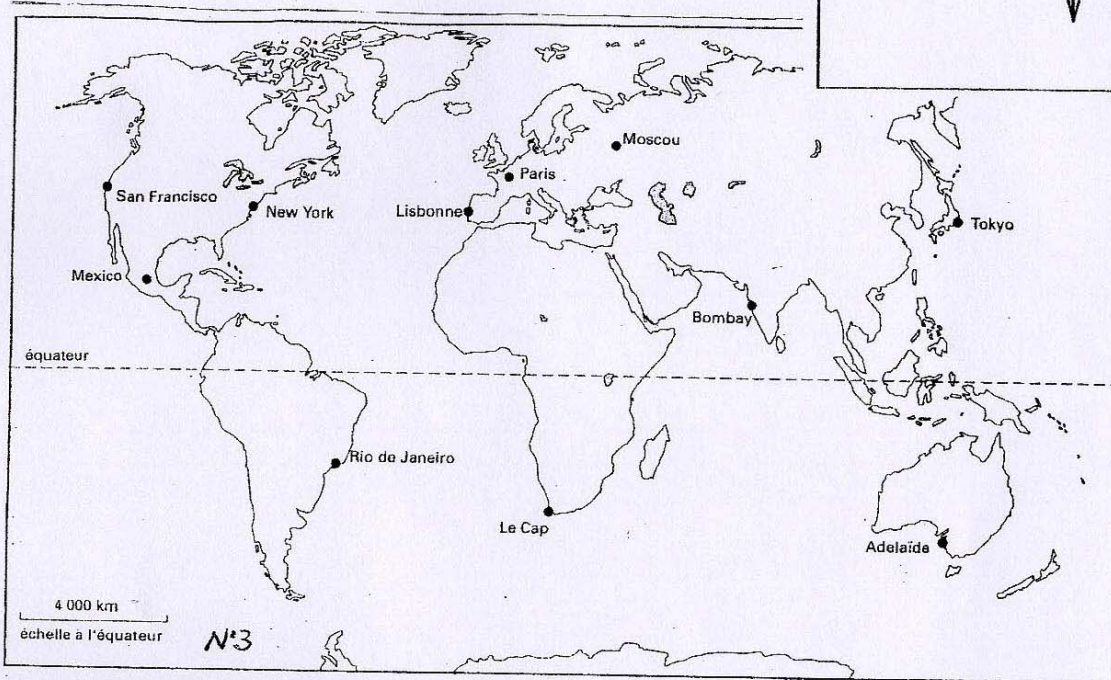
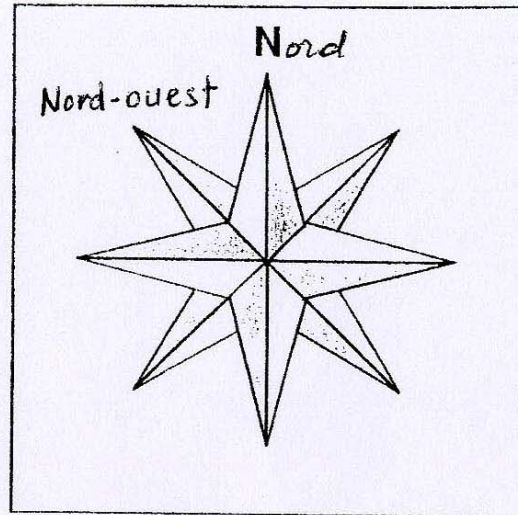
➤ orienter par les points
cardinaux



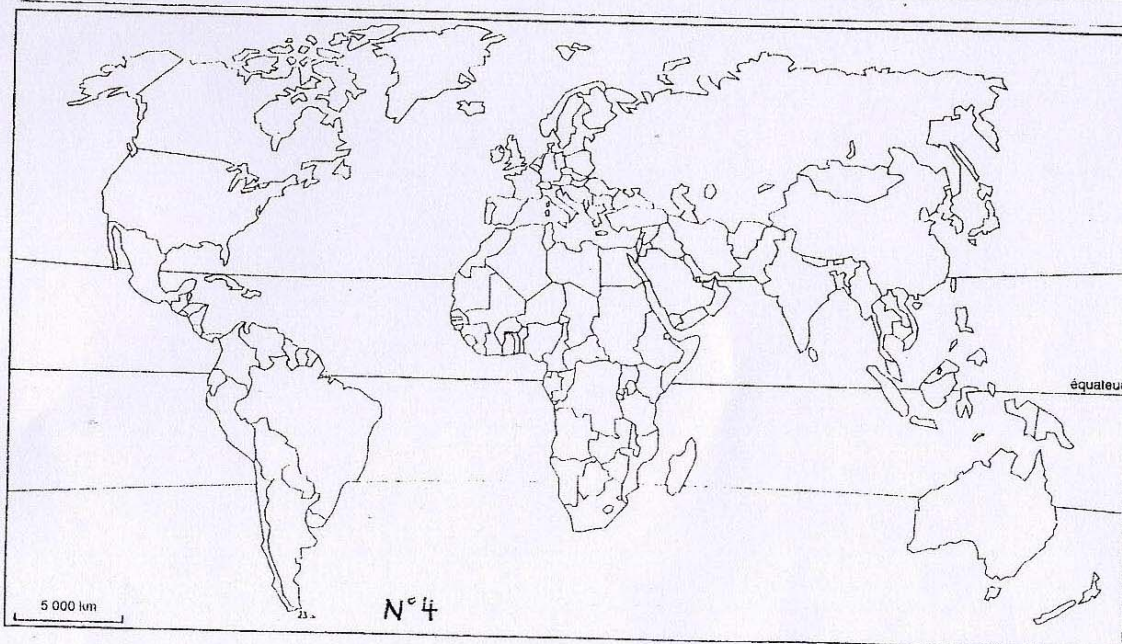
N°1



N°2



N°3



N°4